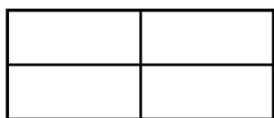




CM1 les fractions simples : entraînement à l'évaluation

Observe la fraction et colorie les parts correspondantes

L'unité est ce rectangle :



$$\frac{2}{4}$$



$$\frac{3}{8}$$


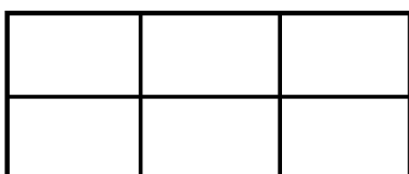
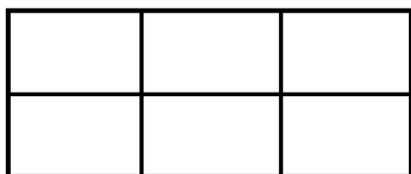


$$\frac{6}{7}$$



$$\frac{2}{3}$$

Colorie pour représenter $\frac{13}{6}$



Place la fraction sur la droite graduée, puis encadre-la entre deux nombres entiers qui se suivent.

Fraction simple	Représentation	Encadrement
$\frac{3}{2}$		$\dots < \frac{3}{2} < \dots$
$\frac{4}{3}$		$\dots < \frac{4}{3} < \dots$
$\frac{10}{4}$		$\dots < \frac{10}{4} < \dots$
$\frac{11}{6}$		$\dots < \frac{11}{6} < \dots$